



学校_____ 班级_____ 姓名_____

考生须知	<ol style="list-style-type: none">1. 本试卷共 8 页，共两部分，27 道题。满分 100 分。考试时间 60 分钟。2. 在试卷和答题纸上准确填写学校名称、班级名称、姓名。3. 答案一律填涂或书写在答题纸上，在试卷上作答无效。4. 在答题纸上，选择题用 2B 铅笔作答，其余题用黑色字迹签字笔作答。5. 考试结束，请将本试卷和答题纸一并交回。
------	--

第一部分

本部分共 24 题，每题 2 分，共 48 分。在每题列出的四个选项中，选出最符合题目要求的一项。

1. 589 年，在民族交融和南方经济发展的基础上，中国长达 300 多年的分裂局面结束，再次统一。

完成这次统一的王朝是

- A. 汉朝
- B. 隋朝
- C. 唐朝
- D. 元朝

2. 这项工程贯通南北，沟通了海河、黄河、淮河、长江、钱塘江五大水系，促进了南北政治、经济和文化交流，对后世影响深远。这项工程是

- A. 都江堰
- B. 灵渠
- C. 长城
- D. 大运河

3. 在课外活动中，同学们玩“看成语，猜制度”的游戏：

提示一：金榜题名；提示二：连中三元；提示三：名落孙山

依据以上提示判断，这一中国古代制度是

- A. 分封制
- B. 郡县制
- C. 三省六部制
- D. 科举制

4. 杜甫《忆昔》写道：“忆昔开元全盛日，小邑犹藏万家室。稻米流脂粟米白，公私仓廩俱丰实。”诗中描绘的情景出现在

- A. 隋炀帝统治时期
- B. 武则天统治时期
- C. 唐玄宗统治时期
- D. 宋太祖统治时期

5. 右图为唐都长安西市行市分布示意图（部分），
由此可知唐朝长安商业

- ①店铺货物品种繁多
- ②可以在居民区开店
- ③由晋商等商帮管理
- ④允许外国商人经营

- A. ①②
- B. ①④
- C. ②③
- D. ③④



唐都长安西市行市分布示意图

注：平准署是负责平抑物价的政府机构。

6. 一位唐朝诗人提出诗歌必须写得真实可信，又浅显易懂。他的诗既反映下层民众的苦难生活，又揭露了达官贵人（如专权的宦官）的腐化生活和欺压人民的恶行。这位诗人是

- A. 李白
- B. 白居易
- C. 苏轼
- D. 辛弃疾

7. 导致右侧图表中户口统计数量变化的主要原因是

- A. 隋末农民起义
- B. 安史之乱
- C. 五代十国的割据分裂
- D. 李自成起义

唐朝户口统计表

时间	户数（单位：万户）
天宝十三载（754）	961.93
广德二年（764）	293.31

8. 宋朝政府派文臣担任各地州县的长官，管理地方财政，逐步形成了节度使“皆不签书（掌管）钱谷事”，地方事务“悉归本州知州、通判兼总之”的制度。其后，节度使逐渐成为表示崇高级别、寄寓优厚待遇的荣誉官衔。这一变化

- A. 造成地方军事实力超过中央
- B. 导致地方出现藩镇割据局面
- C. 分割宰相的军政和财政大权
- D. 有利于宋朝中央集权的加强

9. 某学生在“王安石变法”的研究性学习中梳理了以下知识点，该学生想要研究的主题是王安石变法的

- A. 背景
- B. 内容
- C. 影响
- D. 评价

一、政治危机：政治腐败，农民不断起来反抗
二、财政危机：“三冗”严重，财政困难
三、边防危机：北部边境受到辽、西夏的威胁
四、庆历新政的失败

10. 西夏遗址中发现大量货币，其中宋朝货币占总数的80%以上，西夏货币只占1%。对以上材料和右图解释正确的是


- ①西夏创制文字
 - ②北民南迁，带来冶金技术
 - ③西夏与宋朝有贸易往来
 - ④西夏仿照中原，铸造钱币
- A. ①②③
 - B. ①②④
 - C. ①③④
 - D. ②③④



西夏货币

11. 岳飞的抗金事迹，数百年来一直被民众传颂。岳飞统率军队大败金军主力的地点是
 A. 郾城 B. 澶州 C. 临安 D. 大散关

12. 以下图片共同反映了中国古代



曲辕犁



筒车

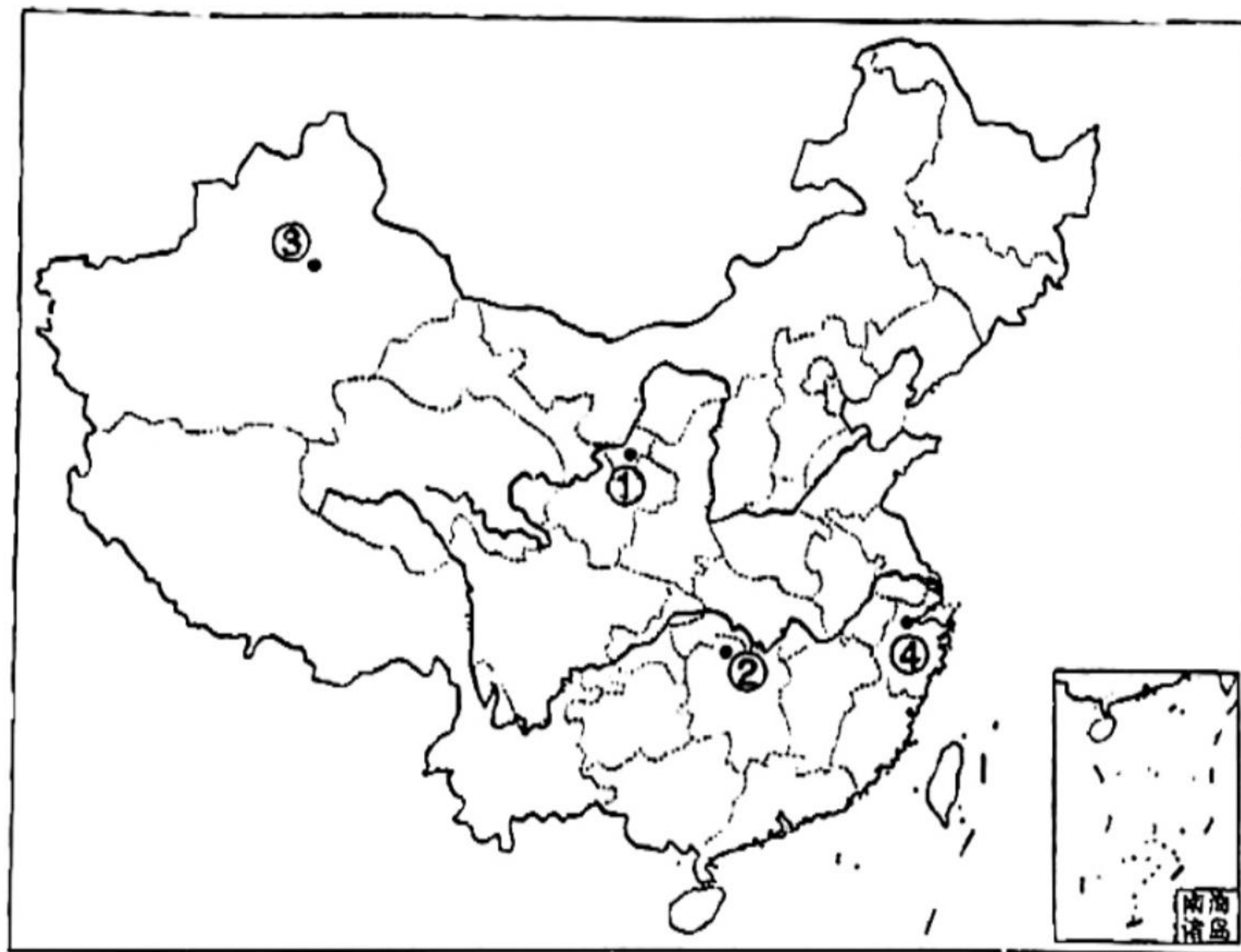


宋代《耕获图》



秧马

- A. 农业的发展 B. 手工业兴盛 C. 商业的繁荣 D. 政治的清明
13. 阅读下图，各选项中说法正确的是




- A. 阿骨打建立女真政权，在①建都 B. 宋辽议和，在②订立澶渊之盟
 C. 世界上最早的纸币出现在③ D. 宋高宗建立南宋，定都在④
14. 下列史事按照发生的先后顺序排列正确的是
- ①南宋灭亡 ②元朝建立
 ③铁木真统一蒙古各部 ④蒙古灭金
- A. ④②③① B. ②③①④
 C. ③②①④ D. ③④②①
15. 《东京梦华录》记载：“大抵诸酒肆瓦市，不以风雨寒暑，白昼通夜，骈闳如此。”以上材料表现了
- A. 唐朝开放的社会风气 B. 宋代丰富的市民生活
 C. 宋代重文轻武的政策 D. 元朝发达的中外交通

16. 中国古代担任书籍抄写工作的人叫做“佣书人”，又称“书手”。抄书业产生于两汉时期，繁荣于隋唐，衰落于宋元。导致该职业衰落的主要原因是

- A. 印刷技术的普及
- B. 书法艺术的进步
- C. 商品经济的发展
- D. 科举制度的没落

17. 下列材料可用于研究明朝强化皇权的是

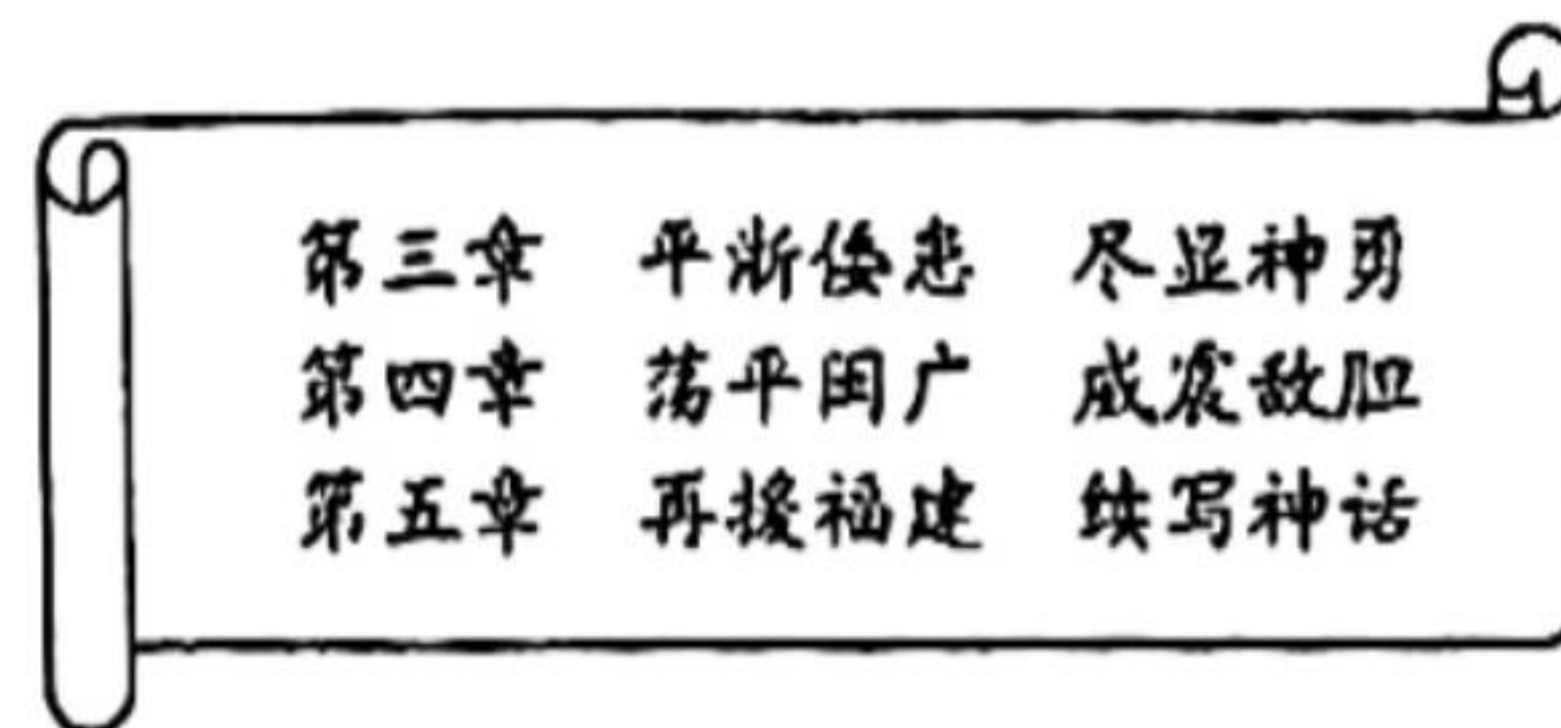


①东厂梅花令牌 ②《天工开物》插图 ③明代青花扁壶 ④锦衣卫印

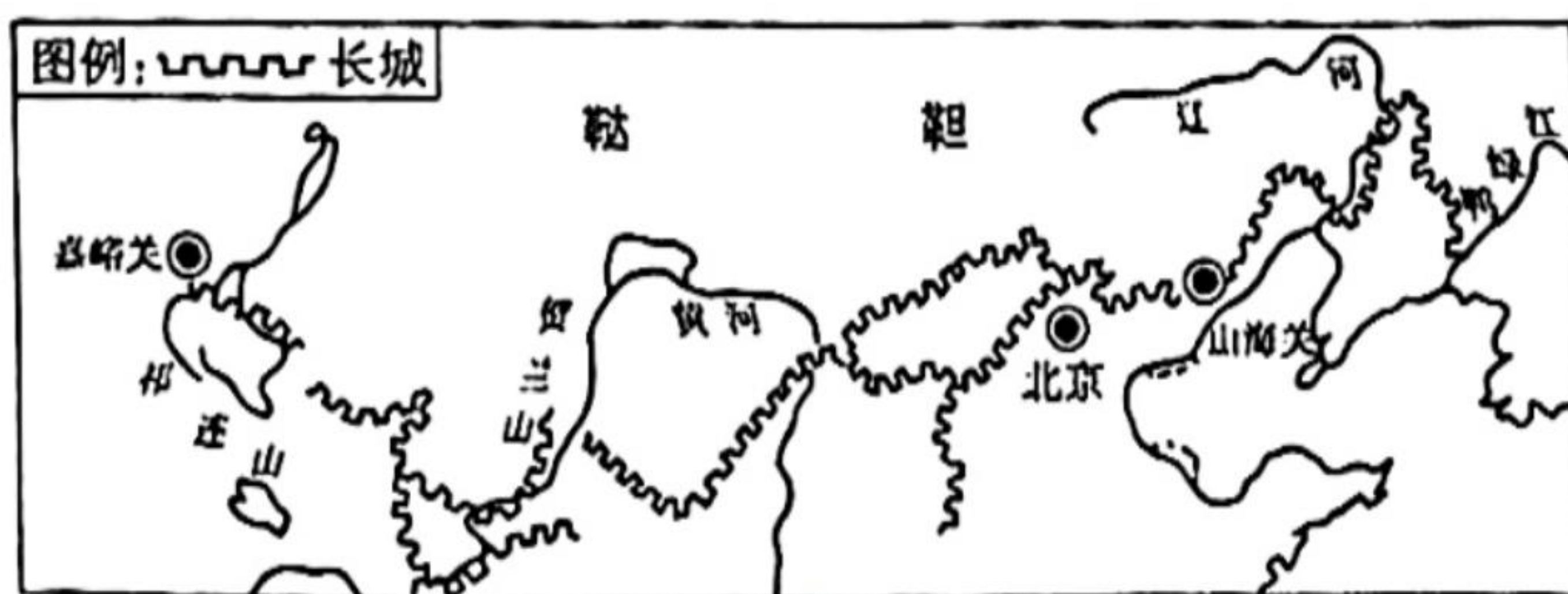
- A. ①②
- B. ①④
- C. ②③
- D. ③④

18. 右图是某部著作的目录节选。由此可推断这部著作是

- A. 《鉴真传》
- B. 《文天祥传》
- C. 《戚继光传》
- D. 《郑成功传》



19. 下图是明长城示意图。长城大多沿山脊修筑，有的甚至建在悬崖峭壁上，易守难攻。城墙里面夯土，外面用砖砌筑。依据图文材料可知，明长城



- A. 沿天然河道修建，保障丝绸之路畅通
- B. 城墙全部是由砖石砌筑而成，很坚固
- C. 巧妙利用地形节省用料，有利于御敌
- D. 西起临洮，东到辽东，总长达万余里

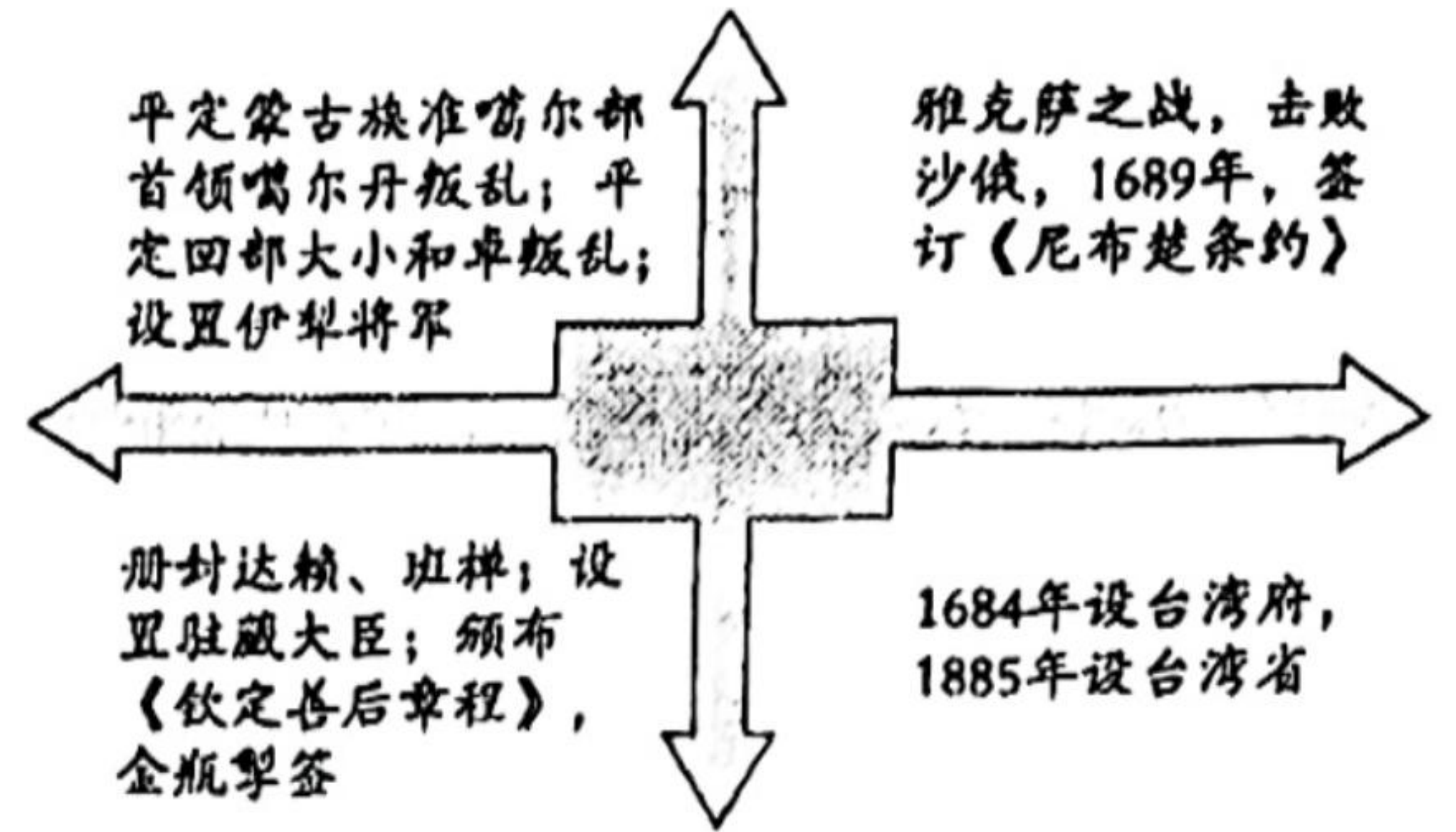
20. 下表为中国古代一位历史人物介绍（部分）。这位历史人物是

1630年	1644年2月	1644年4月
在陕西参加农民起义	在西安建立政权，国号大顺	攻克北京，推翻明王朝

- A. 成吉思汗
- B. 朱元璋
- C. 李自成
- D. 吴三桂

21. 右图内容是一名同学整理的笔记，由此可得出的结论是

- A. 统一多民族国家版图奠定
- B. 社会经济迅速发展
- C. 清政府严格限制对外贸易
- D. 社会矛盾不断加剧



22. 下表反映了明朝和清朝粮食产量的变化，出现这种变化的原因包括

- ①大力推行垦荒政策
- ②注重兴修水利工程
- ③推广高产作物种植
- ④人地矛盾逐渐突出

时期	粮食年产量（亿斤）
明朝·万历年间	1749
清朝·前期	2745

- A. ①②③
- B. ①②④
- C. ①③④
- D. ②③④

23. 清代史学家赵翼在《檐曝杂记》卷一《军机处》中说：“（军机大臣）只供传述缮撰，而不能稍有赞画于其间也。”这说明该机构的设置

- A. 禁锢了人们的思想言论
- B. 限制了对外贸易
- C. 降低了机构的办事效率
- D. 强化了君主专制

24. 元明清时期中国戏剧空前繁荣。

右侧示意图中①处应为



- A. 罗贯中《三国演义》
- B. 施耐庵《水浒传》
- C. 汤显祖《牡丹亭》
- D. 曹雪芹《红楼梦》

第二部分

本部分共3题，共52分。

25. (16分) 西游故事的由来、演变及传播

材料一 印度人没有写史的传统，古代留下的史书很少，印度学者和各国学者研究七世纪前的印度史，都要引用《大唐西域记》。

学者依据玄奘的记录，断定当时天竺影响最大的统治者戒日王没有能够征服南印度，并得到考古资料的证实。《大唐西域记》还记载，戒日王的都城“异方奇货，多聚于此，居人丰乐，家室富饶”。书中还说，印度没有唐朝常见的枣、柿子等，各地都种植石榴、柑橘；“土宜所出，稻麦尤多”。

——摘编自林承节《〈大唐西域记〉对印度历史学的贡献》

(1) 依据材料一，概括《大唐西域记》的价值。(4分)

材料二 杂剧《西游记》讲述了玄奘西行取经的故事，作者杨景贤生活于元末明初，蒙古族，居住在浙江杭州。杂剧部分情节如下：

情节一：唐僧从长安出发，沿途居住官府设置的驿站，驿站还给他提供马。行进半年后，他发现驿站的交通工具从马变成了牛。驿站人员告诉唐僧：再行一月，前面是驴站。驴站再行一月，是狗站等。剧中人物称赞这一景象：“物估人烟万里通，皇风清穆九州同。”

情节二：“女人国”国王介绍，“女人国”从汉朝开始便以儒学立国，先王曾派使者赴中原学习儒家文化，并将一车儒家经典带回国内，所以，国中人皆“知书知史”。(对照玄奘西行路线以及《大唐西域记》中的记载可知，“女人国”的原型约位于今四川西北、青海东南一带)

——摘编自同敏《杂剧〈西游记〉对元代丝绸之路文化的艺术呈现》

(2) 阅读材料二，结合所学完成下表。(4分)

材料信息	所反映的社会状况
作者为蒙古人，使用汉姓，居住于浙江杭州	元朝境内人口流动，各民族人民杂居相处，相互交融
从长安西行的道路沿途设有驿站，供旅行者居住，还有交通工具	
	中原文化影响少数民族地区

材料三 经过近千年的流传演变，玄奘西游的故事最终以小说的形式定型。孙悟空这一虚构人物凭借强大的本领、生动的形象成为小说不可撼动的主角。从明朝中期起，各地书商争相刻印出版《西游记》，有的版本刻印精美，还有名人的点评，供文人雅客收藏欣赏；有的版本删减文字，印刷质量较差，但售价低廉，以适应收入不高，识字不多的市民的需求，因而行销全国。


——摘编自李雯《〈西游记〉故事流变及传播研究》等

(3) 结合材料和所学，分析明代《西游记》成为畅销书的原因。(6分。提示：可以从本书艺术特色、社会经济背景、读者群体、推广等角度考虑)

(4) 综合以上材料，说一说文学作品在历史研究中的作用。(2分)

26 (22分) 统一多民族国家的发展和巩固

材料一

A 《新唐书·渤海传》(节选)	B. 邢窑白瓷碗
(713年,唐朝政府)遣使拜祚荣(大祚荣,粟末靺鞨首领)为左骁卫大将军、渤海郡王,以所统为忽汗州,领忽汗州都督,自是始去靺鞨号,专称渤海	
白话大意:唐朝册封大祚荣为左骁卫大将军、渤海郡王,以其辖区为忽汗州,任命他为忽汗州都督,自此粟末靺鞨建立的政权称为渤海	渤海政权曾建都上京(今黑龙江宁安渤海镇),上图瓷器即出土于此地。据器型分析,此瓷器为9—10世纪初邢窑(旧址在今河北邢台)产品

- (1) 以上材料中属于实物史料的是: : 属于文献史料的是: 。(2分。填写字母序号即可)
- (2) 结合材料和所学,概括唐朝与渤海国的关系。(4分)

材料二 《贞观政要》记载了唐太宗与其大臣间的言论。元朝统治者重视该书,曾下令将其译为蒙古文,颁赐百官。一位官员言事触怒元仁宗(1312—1321年在位),被降职。大臣杨朵儿只引用唐太宗接受魏征直言的故事,说服元仁宗赦免上述官员。元英宗(1321—1324年在位)与大臣拜住讨论国政,拜住提出,“自古帝王得天下以得民心为本”,对于百姓的财富粮食,朝廷“多取则民困而国危,薄敛则民足而国安”。元英宗说:“卿言甚善。朕思之,民为重,君为轻,国非民将何以为君?”

——摘编自向燕南等《历史文化认同与中国统一多民族国家》第三卷

- (3) 阅读材料二,概括元朝君臣的治国理念。(4分) 结合所学,说一说元朝统治者为什么重视《贞观政要》。(4分)

材料三 蒙古族土尔扈特部西迁后,仍保持向清朝朝觐纳贡。1771年,土尔扈特部毅然东归,冲破沙皇俄国军队的围追堵截,跋涉万余里。首领渥巴锡谒见伊犁将军,献出一枚明朝政府永乐八年(1410年)授予土尔扈特部祖先的汉篆封爵玉印,表明土尔扈特部认定自己华夏子孙的身份,认同中国中央王朝。

乾隆皇帝从各地调集大量牲畜、粮食、布匹、帐篷等,分发给疲惫的土尔扈特部众,在今新疆地区等为他们划出地界游牧,册封渥巴锡等首领,希望土尔扈特部“安居循法,勤畜牧”“长享昇平之福”。两年后,其居住地便出现了“游牧安帖,田禾茂盛”的景象。其后,土尔扈特部踊跃从军效力,捐献军备物资,支持清政府平叛和抗击外来侵略。

——摘编自李金柯《土尔扈特蒙古专题研究》

- (4) 结合材料三和所学,分析土尔扈特部东归的原因。(2分) 概括乾隆皇帝妥善安置土尔扈特部的措施及其作用。(6分)

27. (14分) 中国古代的对外交往

材料一 宋代海外贸易情况(部分)

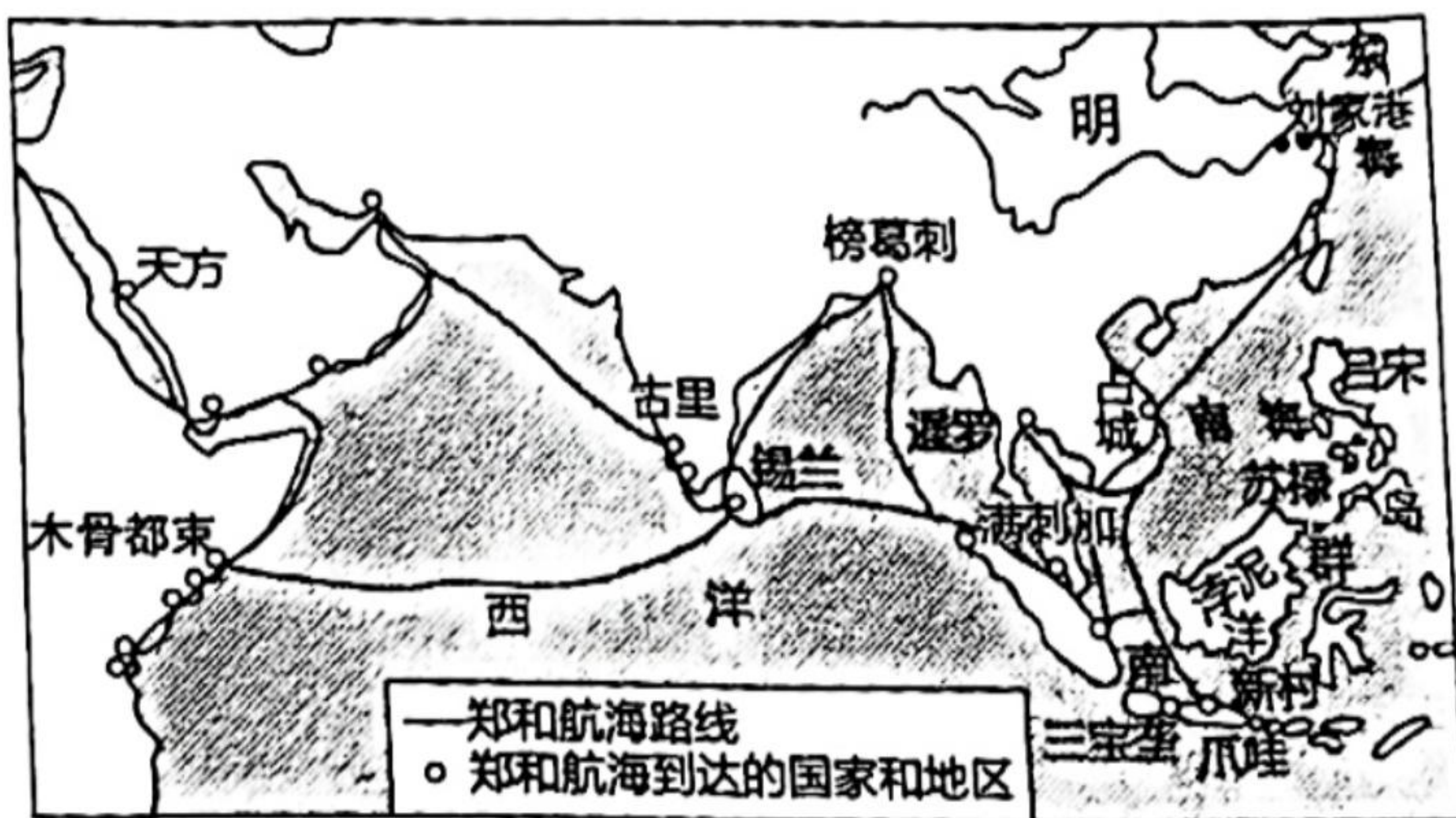
- ①宋朝规定,出海贸易的海商必须到政府登记,领取公凭,否则要受到处罚。
- ②高丽十分欢迎宋朝商人贩运书籍,“每贾客市书至”,其王“则洁服焚香对之”。
- ③宋朝要求对蕃商依法征税,官员违法,“许蕃商越诉,计赃罪之”。
- ④旅居泉州的阿拉伯商人兴建了融合阿拉伯和中国风格的建筑群。

(1) 将材料一的史实与以下观点相对应。(4分。填序号,每空多选、少选、错选均不得分)

A. 宋代重视对海外贸易的管理:_____;

B. 贸易促进中外文化交流:_____。

材料二 15世纪以前的满刺加(在今马来西亚马六甲一带)名不见经传,海盗活动频繁,由于经常受到北方强国暹罗(今泰国旧称)的攻击,被迫向暹罗纳贡称臣。郑和第一次下西洋经过该地区时,就开始整治海盗,为满刺加海峡扫清了海上障碍。此后,郑和把满刺加作为船队在印度洋的集散地,分赴各地贸易的船



队最后都汇合在满刺加,等待季风到来一起回国。这便吸引各国商人纷纷前往满刺加进行贸易,集市上随处可见印度的棉纱、爪哇的枪矛、苏门答腊的胡椒、阿拉伯的乳香、暹罗的柚木、中国的丝绸和瓷器。满刺加逐渐成为中国和印度、西亚间最重要的贸易中转地。1431年,郑和第七次下西洋,正逢暹罗“谋侵”满刺加,郑和奉命责之,制止了暹罗的入侵。

——摘编自吕雨生《前殖民时期马六甲城市研究(1403—1511)》等

(2) 阅读图文材料,概括满刺加发展为中国和印度、西亚间最重要的贸易中转地的原因。(6分)

材料三 郑和率领庞大的舰队下西洋,都对所经的南海岛屿进行反复的勘查,并对一些岛屿进行命名。如将西沙群岛的西部岛群命名为“永乐群岛”,将南沙群岛中较大的一个岛屿命名为“景弘岛”……并将南沙群岛中的一群岛礁命名为“郑和群礁”。这些命名,是明朝在那里(南海)行使主权、进行管理的有力证据。

——陈梧桐、彭勇《明史十讲》

(3) 综合上述材料,结合所学,指出研究郑和下西洋的现实意义。(4分)

海淀区七年级练习

历史参考答案

2024.07

第一部分（共 48 分）

本部分共 24 题，每题 2 分，共 48 分。

题号	1	2	3	4	5	6	7	8	9	10
答案	B	D	D	C	B	B	B	D	A	C
题号	11	12	13	14	15	16	17	18	19	20
答案	A	A	D	D	B	A	B	C	C	C
题号	21	22	23	24						
答案	A	A	D	C						

第二部分（共 52 分）

25.（16分）

(1)《大唐西域记》记载了七世纪前印度政治、农业、商业、城市等方面的情况，是研究中外交流史的珍贵文献。（4分。一点2分，回答两点即可得分）

(2)

材料信息	所反映的社会状况
	元朝修建了覆盖全国的陆路交通网，建立了四通八达的驿站，陆路向西通往波斯、阿拉伯等，使东西方使臣、商人往来方便（2分。回答一点即可得分）
“女人国”国民学习儒家文化（2分）	

(3)《西游记》是一部富于浪漫主义色彩的神话小说，语言生动流畅，故事引人入胜，塑造了孙悟空等生动的人物；（2分。回答一点即可，言之成理也可得分）明代商品经济活跃，城市繁荣，市民阶层不断壮大，市民文化生活丰富；文人关注小说；印刷术的成熟发展；书商努力推广此书。（4分。一点2分，回答两点即可得分）

(4)文学作品可以反映了当时的社会生活；文学作品存在虚构因素。（2分。言之成理即可得分）

26.（22分）

(1)B；A（2分。一点1分）

(2)渤海国首领接受唐朝册封；（2分）渤海与唐朝有经济交流。（2分）

(3)元朝君臣认为君主应虚心纳谏；取得民心才能巩固统治；主张减轻人民负担。（4分。一点2分，回答两点即可得分）

唐太宗统治期间，政治比较清明，国力增强，史称“贞观之治”；元朝统治者受到民本思想影响；认为借鉴唐太宗的治国方略有利于元朝政治稳定、经济发展。（4分。一点2分，回答两点即可；言之成理也可得分）

(4)原因：土尔扈特部不堪忍受沙皇俄国的控制和压迫；认同中华民族，热爱祖国。（2分。回答一点即可，言之成理也可得分）

措施：乾隆皇帝救济土尔扈特部，分配给他们牧场，册封其首领。

作用：土尔扈特部积极开发、保卫新疆，有利于统一多民族国家的巩固和发展。

（6分。一点2分，回答三点即可。“措施”“作用”得分均不得超过4分）

27.（14分）

(1) A. ①③； B. ②④（4分。一空2分，每空多选、少选、错选均不得分）

(2) 满刺加地处郑和下西洋的交通要道，地理位置优越；郑和保护满刺加免受暹罗的侵扰，为其发展提供一个相对稳定的环境；郑和船队整治海盗活动，有利于满刺加海峡的交通安全；郑和的商船队以满刺加为集散地，促进满刺加商贸活动的繁荣。（6分。一点2分，回答三点即可得分）

(3) 郑和下西洋与所到国家进行友好交往，体现了中华民族热爱和平的传统；郑和下西洋开创了西太平洋与印度洋之间的亚非海上交通线，为人类的航海事业作出了伟大贡献；郑和下西洋证明早在明朝我国就已经在南海行使主权。（4分。一点2分，回答两点即可得分；言之成理也可。）