



历史试卷

考生须知

1. 本试卷共 8 页,共两部分,共 19 题,满分 60 分。考试时间 70 分钟。
2. 在答题卡上准确填写学校、班级、姓名和准考证号。
3. 试题答案一律填涂或书写在答题卡上,在试卷上作答无效。
4. 在答题卡上,选择题用 2B 铅笔作答,其他试题用黑色字迹签字笔作答。
5. 考试结束,将答题卡交回。

第一部分

本部分共 16 题,每题 1.5 分,共 24 分。在每题列出的四个选项中,选出最符合题目要求的一项。

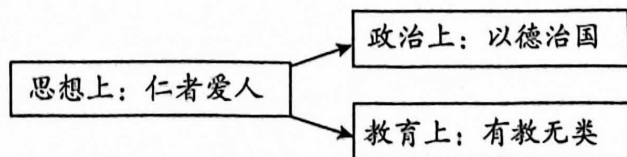
1. 要了解生活在距今约 70 万-20 万年的我国早期人类代表——北京人的生产生活状况,可信度最高的是
A. 神话传说 B. 考古发现 C. 传世文献 D. 影视作品
2. 商朝是中国早期国家发展的重要阶段,创造了灿烂的文明。下列文物图片,能反映商朝文明成就的一项是



- A. 猪纹陶钵 B. 人面鱼纹彩陶盆 C. 刻有文字的甲骨 D. 铁制农具
3. 西周时期周王为巩固疆土,根据血缘关系远近和功劳大小,确立的社会等级制度示意图如下。此制度是



- A. 禅让制
B. 世袭制
C. 分封制
D. 皇帝制
4. 春秋战国时期是社会大动荡时期,也是学术思想活跃时期,各种学说兴起。与下面示意图所示思想主张对应正确的是



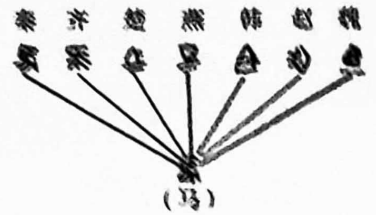
- A. 道家学派——老子
B. 儒家学派——孔子
C. 墨家学派——墨子
D. 法家学派——韩非子

5. 有学者指出,商鞅变法“通过建立明确的以战争和耕织为取向的激励机制,最大限度地发挥、调动了全社会的潜力。”以下措施中,能够说明这一结论的有

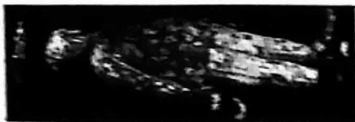
- ① 对有军功者授予爵位并赏赐土地 ② 生产粮食、布帛多的人可免除徭役
 ③ 改革户籍制度,加强对人民的管理 ④ 确立县制,由国君直接派官吏治理
- A. ①② B. ①③ C. ②③ D. ③④

6. 秦始皇命李斯等人制定笔画规整的小篆(如下图),作为通用文字颁行全国。该措施

- A. 结束了争战的局面
 B. 拓展了秦朝的疆域
 C. 便利了交通的往来
 D. 有利于政令的推行



7. 文物是历史文明的印记。下列文物图片能佐证汉代尊崇儒术的是



- A. 汉代金缕玉衣 B. 汉代讲经图 C. 汉代五铢钱 D. 东汉宅院画像砖

8. 李红同学在历史笔记中整理了东汉末年的两次著名战役。其中①处应为

战役	时间	交战双方	结果	意义
官渡之战	200年	曹操—袁绍	曹操以少胜多	为统一北方打下基础
①	208年	曹操——孙刘联军	孙刘联军以少胜多	为三国鼎立局面的形成奠定基础

- A. 涿鹿之战 B. 长平之战 C. 赤壁之战 D. 淝水之战

9. 公元5世纪末迁都洛阳,并规定朝廷官员必须使用汉语;穿汉服;改汉姓;鼓励与汉人联姻。阅读以上信息你联想到的历史人物是

- A. 汉武帝 B. 孝文帝 C. 隋文帝 D. 宋太祖

10. 以下是一位同学学习“隋朝开通大运河”后完成的笔记。其中说明大运河作用的一项是

隋朝开通大运河	}	A. 隋朝的统一为大运河的开通创造了条件 B. 开凿过程中利用了天然河道和古运河 C. 以洛阳为中心,北抵涿郡,南至余杭 D. 加强了南北地区政治、经济和文化交流
---------	---	--

11. 《神童诗》中有言“朝为田舍郎,暮登天子堂。”与诗句描述现象有关的是
 A. 汉朝察举制 B. 汉朝刺史制度 C. 魏晋选官重门第 D. 隋朝科举取士
12. 杜甫被称为“诗圣”,其诗是当时历史的写照,诗句“忆昔开元全盛日,小邑犹藏万家室。稻米流脂粟米白,公私仓廩俱丰实。”反映的盛世时期是
 A. 文景之治 B. 光武中兴 C. 贞观之治 D. 开元盛世
13. 宋朝的文臣担任中央和地方的要职,甚至主持军务,地位和待遇均高于武将,武将则受到多方面的牵制。当时有谚语曰:“做人莫做军,做铁莫做针。”这反映了当时宋朝的政治现象是
 A. 休养生息 B. 藩镇割据 C. 重文轻武 D. 闭关锁国
14. 对以下大事年表解读正确的是

960年	1005年	1038年	1044年	1125年	1127年
北宋建立	宋辽订立澶渊之盟	西夏建立	宋夏达成和议	金灭辽	金灭北宋

- A. 中华文明的起源 B. 江南地区的开发
 C. 繁荣与开放的时代 D. 民族政权的并立
15. 初一年级计划推送历史人物主题公众号。以下史事可以出现在右侧人物专栏中的有

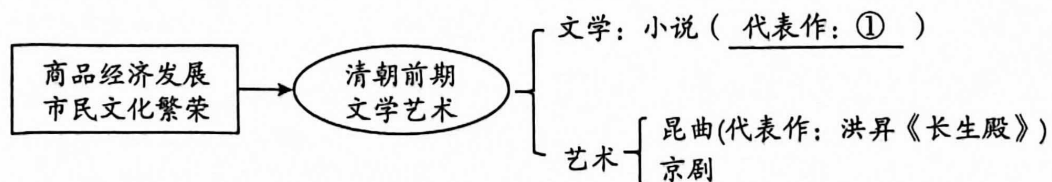


忽必烈

- ① 统一蒙古草原,建立蒙古政权 ② 改国号为大元,次年定都于大都
 ③ 攻灭南宋残部,完成全国统一 ④ 设立厂卫特务机构,监视官民

- A. ①② B. ①③ C. ②③ D. ③④

16. 清朝文学艺术成就突出,小说创作大放异彩。以下知识结构图中,可选为艺术成就最高、影响最深远的长篇小说代表作是



- A. 罗贯中《三国演义》 B. 施耐庵《水浒传》
 C. 吴承恩《西游记》 D. 曹雪芹《红楼梦》

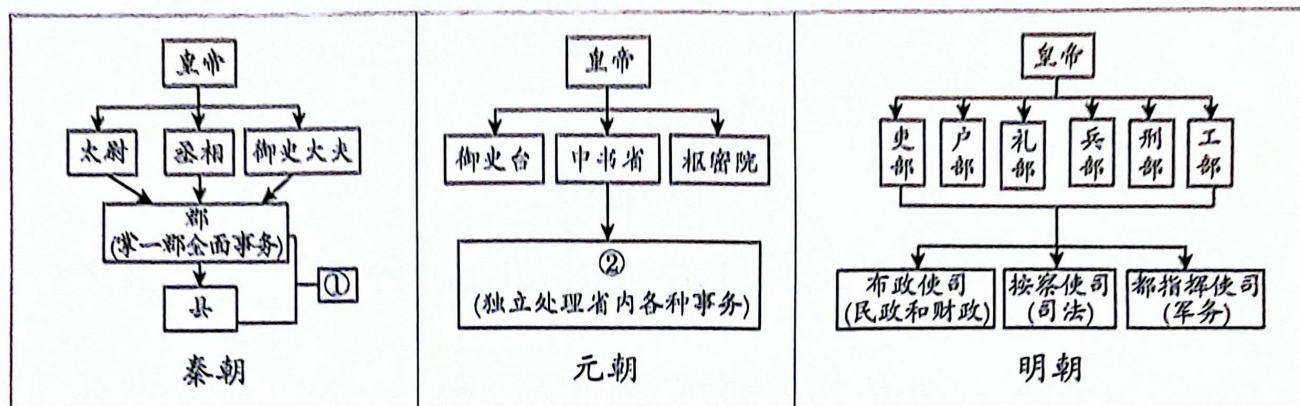
第二部分

本部分共 3 题,共 36 分。

17. (12 分)统一多民族国家的形成与发展是多种因素互动的结果

材料一 地方行政制度

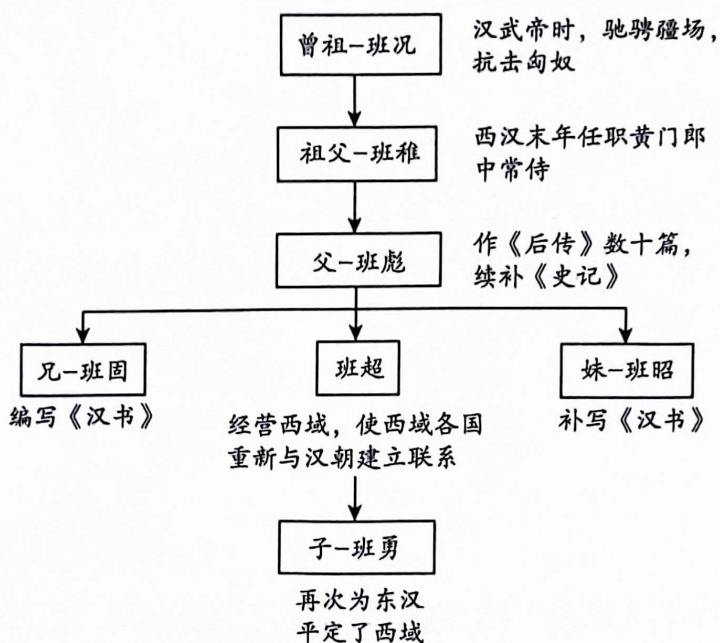
中国古代政治制度演变示意图(部分)



(1) 依据材料一并结合所学,写出①和②处的地方管理制度名称。(2分)从地方管理机构职责变化的角度说说中国古代政治制度演变的趋势。(2分)

材料二 家国休戚与共

班超家族世系图(部分)



注:《汉书》记述了上起西汉的汉高祖元年,下至新朝的王莽地皇四年,共 230 年的史事,是中国第一部纪传体断代史。

(2) 结合所学,指出班超家族生活时期的时代特征。(2分)依据材料二概括班超家族对汉朝历史发展的贡献。(2分)

材料三 边疆治理政策



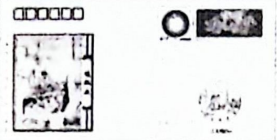
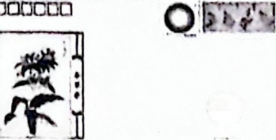
时期	措施
西汉	设置西域都护,作为管理西域的最高长官
唐朝	中央政权完全统一西域,先后设置安西都护府和北庭都护府管辖西域天山南北地区
元朝	在西藏设立宣慰使司都元帅府,由宣政院直接统辖,掌管西藏的军民各项事务;设置澎湖巡检司,负责管辖澎湖和琉球(今台湾)
清朝	册封达赖和班禅,设置驻藏大臣,监督西藏地方政务,设立噶厦,颁布《钦定藏内善后章程》,规范西藏地方行政体制和法规;平定大小和卓叛乱,设置伊犁将军;郑成功收复台湾,清朝设置台湾府(隶属福建省),后建立台湾省(隶属中央)

(3)依据材料三,归纳古代中央政府治理边疆的方式。(2分)结合所学说一说清朝经略边疆的重要意义。(2分)

18. (12分) 纪念封蕴含丰富的历史信息

纪念封是为纪念某些事件或人物而专门设计的信封。信封上绘有与该项纪念有关的图案或文字,背面还印有关于纪念内容的说明性文字。

材料一

 <p>①马王堆地图 西汉马王堆地图绘制在帛上,是中国发现最早的地图</p>	 <p>②张仲景 东汉张仲景的《伤寒杂病论》发展了中医学的理论和治疗方法</p>
 <p>③造纸术 东汉蔡伦改进造纸工艺。后来,纸成为主要的书写材料</p>	 <p>④本草学 东汉《神农本草经》是中国古代第一部药理学专著</p>

秦汉时期社会生产力的进步为科学技术的发展提供了雄厚的物质基础和广阔的社会需求;富有科学创造精神的科技人才通过政府的用人政策脱颖而出,并充分利用官方提供的档案资料和研究设备,完成重要的科学发现和学术建树;国内各地域文化间的交流乃至外域文化在中国的传播,对秦汉自然科学和技术发展起到了不可忽视的促进作用。

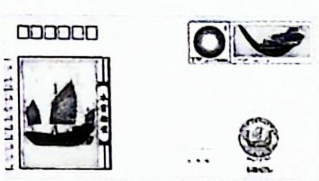

——摘自《中国大通史》

(1)某同学将材料一中的纪念封按主题进行了如下分类,请你将表格空白处补充完整。

(2分)依据材料概括秦汉时期科技发展的原因。(2分)

主题一	纪念封
两汉时期图文记录载体的发展变化	
主题二	纪念封
	②
	④

材料二

纪念封正面	纪念封背面的说明文字
 <p>水密舱壁</p>	<p>1982年出土的泉州法石南宋海船中,设置了水密隔舱,即钉与船板之间的缝隙用麻筋和桐油、石灰舱密(填补),增加了抗沉性和横向强度。这一技术由马可·波罗介绍到西方,并逐渐被世界各国的造船界普遍采用,对人类航海史的发展产生了重要影响</p>
 <p>活字印刷术</p>	<p>日本、韩国和欧美各国汉学家都对《梦溪笔谈》进行过系统而又深入的研究,他们肯定了北宋毕昇发明的活字印刷术是中国伟大的技术发明,并认为这一发明对人类近代文化传播作出了重大贡献</p>

(2)写出宋元时期另一项科技成就并说明其影响。(2分)依据材料二并结合所学,概括宋元时期科技成就的特点。(2分)

材料二



唐章怀太子墓壁画《马球图》
(马球自波斯传入中国)



鉴真像
(现存日本奈良唐招提寺)

国家	大食	波斯	拂菻	新罗
次数	37	26	7	26

裴矩在《西域图记》中描述了从河西走廊到地中海、波斯湾和印度洋等海域的欧亚国家之间的交通线路……从贞观到开元年间,唐朝的社会经济得到了前所未有的大发展,包括军事、经济和文化实力在内的综合国力迅速提升,进而支撑起其在欧亚大陆东部的强国地位。唐朝与外部世界加强交往的动因还源自唐朝开放进取的社会心态。

——摘编自刘后滨《唐朝对外交往的世界格局》

(2) 依据材料二并结合所学,概括唐朝对外交往的特点并分析其原因。(4分)

材料三



印度尼西亚爪哇岛三宝庙



山东德州苏禄王墓

明太祖时,积极与周边国家和地区发展友好关系。明成祖时,派 ①,其船队携带优质丝绸、精美瓷器、上等茶叶等各类物品,以及大量金银货币,用于慷慨送礼和贸易往来,互通有无,互补互利。明成祖还向各国派遣使臣 50 多次,加强了与周边国家和地区的往来。一些国家也纷纷遣使来中国,还有几个国家的国王到中国访问,如榜葛刺国王两次来中国进献长颈鹿。浡泥国、苏禄国的国王来中国访问时因病去世,就安葬在中国。

——摘编自统编版《中国历史》七年级下册

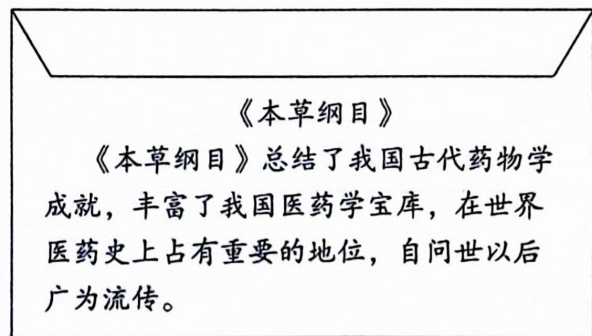
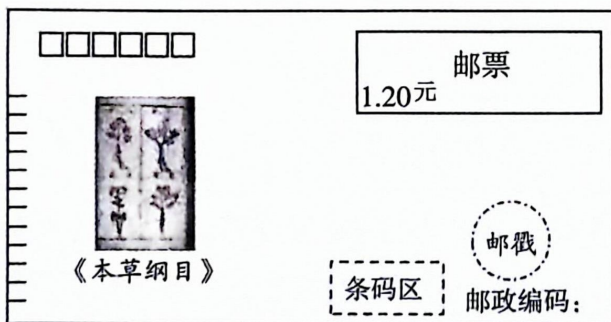
(3) 结合所学,写出材料三中①处的历史事件。(2分) 指出明朝对外友好交往的意义。(2分)

材料三

科技著作	时期	成书过程
《本草纲目》	明朝	李时珍从小对医药学兴趣浓厚。他搜集和整理了 800 多种医药书籍潜心钻研,在实践中细心治疗病人,到深山僻野中采集药物标本。经过 27 年持续不断的努力,终成此书
《农政全书》	明朝	徐光启大量引用古代农业文献,还试种甘薯等取得成功,并根据自己的经验推广;积极学习西方科学知识,在书中加入此类独特研究成果
《天工开物》	明朝	宋应星自幼勤奋好学。公务闲暇时专心致志地研究科学技术,整理各地的农业和手工业生产技术和经验,并亲自考察瓷、蔗糖等制作工艺将其录入书中



(3) 依据材料三并结合所学,指出三部著作成书过程的共同点。(2分) 任选一部科技著作,仿照示例为其撰写纪念封说明文字。(2分,示例除外)

示例:



19. (12分) 历史文物与遗迹见证中国古代对外交往盛况

材料一

文物	 西汉鎏金铜蚕	 蓝琉璃碗
说明	陕西省石泉县前池河出土,现藏于陕西历史博物馆。汉代石泉县养蚕缫丝业达到高峰,其丝织品不仅畅销国内,而且运抵长安后,沿丝绸之路行销中亚、西亚和欧洲	现藏于中国国家博物馆,是中国迄今出土最早的罗马琉璃器皿。随着西汉对外交流的兴盛,外国玻璃制品和玻璃制造技术传入我国,促进了我国玻璃工艺技术的发展

(1) 写出与开通丝绸之路有关的历史人物与事件。(2分) 依据材料一并结合所学,说明丝绸之路促进了东西方贸易与文化交流。(2分)

2024 北京顺义初一(下)期末历史参考答案

1. B. 2 C. 3. C 4. B 5. A 6. D 7. B 8. C 9. B 10. D

11、 D 12. D 13. C 14. D 15. C 16. D

17. (1) ①郡县制,②行省制;沿袭与变革,加强了中央集权.

(2) 大一统的多民族封建国家、国家强盛、社会经济发展,社会稳定等;贡献:曾祖北击匈奴、安定边疆,兄妹著《汉书》,班超自己出使经营西域、其子班勇平定西域。

(3) 大都设置管辖机构和官员,加强边疆治理,也有册封与军事管制镇压。意义:维护了多民族国家的统一、团结,打击了边疆分裂势力;保障了边疆稳定发展.

18(1)①③,东汉中医学、药物学成就;原因:国家统一稳定,国家强盛;经济发展等.

(2)指南针;促进了世界远洋航海技术大发展.为欧洲开辟新航路提供了技术条件。火药、火器制造传到欧洲,对欧洲作战方式产生巨大影响,推动欧洲社会变革;

(3)作者付出心血多,经过长期探索总结实践写成的;《农政全书》:农业生产经验,技艺革新、农学创新成果,是重要的农学巨著;《天工开物》:农业、手工业生产技术全面总结,记述了中国在当时世界上先进的科技,国外影响大,被翻译成多种文字,被誉为中国 17 世纪工艺百科全书。

特点:重大创造发明,对世界人类产生深远影响;范围广领域多,大大促进人类社会文明进步。

19.(1)张骞,张骞通西域;丝绸之路促进东西方贸易与文化交流:中国的丝绸等行销中亚西亚和欧洲,西方的葡萄、玛瑙等传入中国,外国玻璃制作技术传入中国,我国汉代的造纸等也传播国外。

(2) 交往交流比较频繁,范围广又多;内容表现在经济文化等方面;原因:开明的民族政策,以及对外开放进取风气.!

(3) ①郑和下西洋,意义:加强经贸往来,积极发展国家地区间的友好关系,促进经济发展