

通州区 2025—2026 学年度第二学期期末

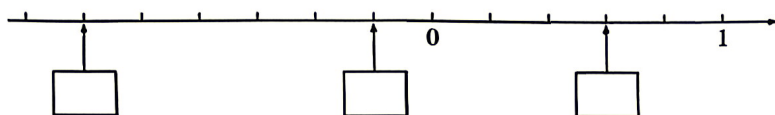
小学四年级数学样题

(建议时长:70 分钟)

学校		班级		姓名	
注 意 事 项	1. 答题前, 学生务必将自己的学校名称、班级、姓名填写清楚, 请认真核准条形码上的号码、姓名等信息, 确认无误后粘贴在条形码框内。				
	2. 选择题直接将选项填入括号内, 其他题目用黑色字迹签字笔作答。				
	3. 请按照题号顺序在各题目的答题区域内作答, 未在对应的答题区域作答或超出答题区域的作答均无效。				

一、填空。

- 一个小数由 4 个十和 6 个十分之一组成, 这个小数写作( )。
- 小明的妈妈买苹果应付 6.8 元, 扫码付款时忘记输入小数点, 售货员应返还妈妈( )元。
- 2022 年全国小学生在校人数为: 107000000 人, 改写成以“亿”为单位的数是( )亿人, 再保留一位小数约是( )亿人。
- 我国登陆月球的月球车“玉兔号”长 1.5 米, 相当于( )米( )厘米; 重 140 千克, 合( )吨。
- 长方形的对边不仅相等而且互相( ), 四个角都是直角说明相邻的两条边互相( )。
- 某地某天的最高气温是  $8^{\circ}\text{C}$ , 记作  $8^{\circ}\text{C}$ ; 最低气温是零下  $3^{\circ}\text{C}$ , 记作( )。
- 在  里填上适当的数。





(8) 按规律填空。

$\frac{1}{2}, \frac{2}{3}, \frac{3}{5}, \frac{4}{8}, \frac{5}{13}, ( ), ( )$ 。

二、选择题。将正确答案前面的字母填在( )里。

- (1) 小明观察右面的立体图形, 从左侧看到的图形是( )。



- (2) 下面的字母中, 可以看做轴对称图形的是( )。

A. **F**

B. **N**

C. **H**

- (3) 提倡塑料购物袋重复使用有利于环保, 我国有关部门也规定“禁止生产和销售厚度小于 0.025 毫米的超薄塑料购物袋”。下面厚度合格的塑料袋是( )。

A. 0.02 毫米

B. 0.03 毫米

C. 0.023 毫米

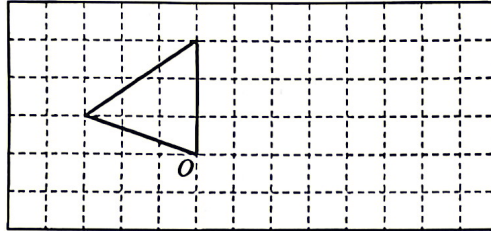
请在各题目的答题区域内作答, 超出黑色矩形边框限定区域的答案无效

(4)下面对“平均数”的理解正确的是( )。

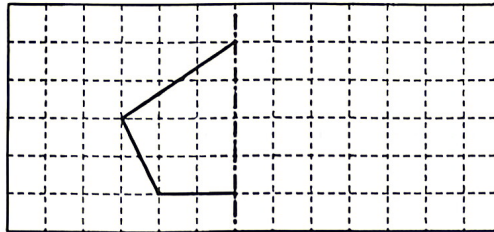
- A. 小杰是学校游泳队队员，他一周训练三次，平均每次游 4 千米，他每次训练都游 4 千米
- B. 四(1)班女生的平均体重为 35 千克，男生的平均体重为 38 千克，四(1)班所有女生一定比所有男生体重轻
- C. 晨晨身高 1.68 米，是学校篮球队中最矮的，学校篮球队的平均身高一定高于 1.68 米

三、完成下面各题。


(1)把下图中的三角形绕 O 点顺时针旋转  $90^\circ$ ，画出旋转后的图形。



(2)画出轴对称图形的另一半。



(3)在下面的方格纸上，先画一个长 5 厘米、宽 3 厘米的长方形，再画一个周长和它相等的正方形。  
(图中每一小方格代表 1 平方厘米)



(4)下面是四年级(1)班第一小组一分钟跳绳比赛的成绩统计表。

四年级(1)班第一小组一分钟跳绳比赛成绩统计表

姓名	王皓	赵小雅	刘冰冰	董倩倩	李若茜	贾星宇
成绩(个)	125	132	105	141	129	118

根据统计表,回答下面的问题。

①这个小组一分钟跳绳的平均成绩是多少?

②高于平均成绩的同学有几个人? 低于平均成绩的同学有几个人? 通过这样的分析,你对平均数有怎样的认识?

#### 四、计算下面各题。

(1)直接写出得数

$0.8 + 0.6 =$

$12.7 + 3 =$

$4.8 - 3.2 =$

$0.07 - 0.05 =$

$1.8 + 10.2 =$

$3 - 2.7 =$

(2)用竖式计算

①

②

③  $100 - 82.13 =$

(3)脱式计算

①  $2.69 + 4.32 - 1.8$

②  $5.07 - (3.07 + 0.29)$

## 五、解决实际问题。

(1) 小华原有 50 元，买图书用去 28.8 元，买文具用去 19.9 元，他还剩多少元？

(2) 甲、乙两辆汽车同时从 A、B 两城出发相向而行，甲车每小时行 72 千米，乙车每小时行 68 千米，4 小时相遇。A、B 两城相距多少千米？

(3) 师徒二人要合作加工 1000 个零件，师傅每小时加工 45 个，徒弟每小时加工 40 个，加工一段时间后还差 320 个就完成任务了。师徒二人已经加工了几个小时？

(4) 学校门前新修的道路长 96 米，要在道路两边栽上槐树，每两棵树之间相距 8 米（两端都要栽）。一共要栽多少棵槐树？

